

الفصل الأول 2017 / 2018

الاسم:

الخطوة العلاجية للرياضيات للصف الثاني ()

التاريخ:

• ضع دائرة حول رمز الإجابة الصحيحة فيما يأتي:


1- ما هو العدد الذي يأتي قبل  وبعد  ؟

3 (a) 7 (b) 8 (c) 5 (d)

	8
10	

2- ما الجزء الناقص من العدد 10 في النموذج

8 (a) 3 (b) 5 (c) 2 (d)

3 - اكتب جملة الطرح العددية التي يعبر عنها النموذج 

4 - 0 = 4 (a) 4 - 4 = 0 (b) 4 + 0 = 4 (c) 4 + 4 = 8 (d)



4 - أوجد ناتج $12 + 0 = \underline{\quad}$

10 (a) 0 (b) 12 (c) 11 (d)

5- أوجد الحد الجمعي الناقص في $8 + \square = 17$

9 (d) 8 (c) 6 (b) 7 (a)

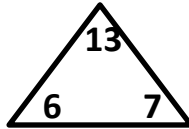
6- ما عدد العناصر الإضافية عن العدد 10 في الشكل أدناه



5 (d) 10 (c) 7 (b) 3 (a)

7- حقيبة خالد فيها 8 كتب والعدد ذاته في حقيبة عمر ما مجموع الكتب في الحقيبتين

16 (d) 18 (c) 12 (b) 14 (a)



8- ما الحقيقة التي يمكن تكوينها باستخدام الأعداد

$11 + 2 = 13$ (d)

$6 + 7 = 15$ (c)

$13 - 6 = 7$ (b)

$13 - 8 = 5$ (a)

9- أي من الأعداد الآتية هو تسعة وسبعون بالأرقام

80 (d

75 (c

97 (b

79 (a

10- ما هو العدد الناقص على خط الأعداد



40 (d

25 (c

35 (b

10 (a

النموذج

العشرات	الآحاد

11- ما هو العدد الذي يوضحه

50 (d

40 (c

35 (b

30 (a

عشرات	آحاد
6	5
	7

+

12- أوجد الناتج في النموذج

75 (d

76 (c

72 (b

62 (a

13- 3 عشرات + 6 عشرات = _____ عشرات

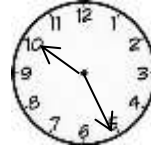
9 (a) 8 (b) 3 (c) 7 (d)

العشرات	الآحاد
2	5
4	6

14- ما العبارة الصحيحة التي تناسب النموذج ؟

64 > 52 (a) 46 > 25 (b)

56 > 24 (c) 65 > 42 (d)



15 - ما الوقت الموضح في الساعة ؟

10 : 30 (d)

10 : 25 (c)

5 : 10 (b)

10 : 20 (a)

16- ما إجمالي عدد الاشخاص الذين شاركو في استطلاع الرأي ؟

الأشكال المفضلة						
	★	★	★	★	★	نجوم
		☾	☾	☾	☾	هلال
				●	●	دائرة

20 (d)

10 (c)

14 (b)

11 (a)

17- كم يزيد عدد من يحبون قراءة كتاب عن عدد من يحبون ممارسة الألعاب؟

ما نحب عمله

						ممارسة الألعاب
						قراءة كتاب
						الرسم

5 (d) 3 (c) 2 (b) 1 (a)

18 - ما عدد رؤوس الشكل ؟




3 (d) 2 (c) 5 (b) 4 (a)

19- ما عدد أوجه الإسطوانة ؟



1 (d) 3 (c) 2 (b) 5 (a)

19- حدد الشكل الذي يشبهه ؟



(d)  (c)  (b)  (a) 

