



الفصل الأول 2017 / 2018

الاسم:

الخطة العلاجية مادة الرياضيات للصف الأول

التاريخ:

السؤال الأول:

المعرفة

* ضع دائرة حول رمز الأجوبة الصحيحة:

اولا-الكلمة التي تطابق العدد 4

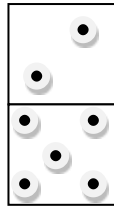
a.) ثلاثة

b.) واحد

c.) أربعة

d.) اثنان

ثانياً-العدد المطابق للصورة:



2

+5



1



9



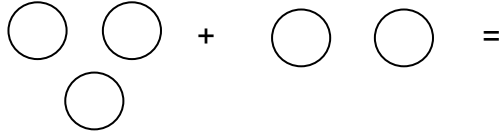
7



3



ثالثاً- جملة الجمع المطابقة للصورة:



a.) 1+3=4

b.) 3+2=5

c.) 0+2=2

d.) 3+2=6

رابعاً- ضع دائرة حول صواب أو خطأ:

$5 + 2 = 4$

$3 = 3$

$7 + 0 = 7$

صواب , خطأ

صواب , خطأ

صواب , خطأ

خامساً- صل بين الكلمة والرمز المناسب:

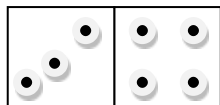
جملة جمع

+

زائد

$1 + 3 = 4$

سادسا : عبر عن الصورة بجملّة عددية:



_____ ○ _____ ○ _____

التطبيق

السؤال الثاني:

0	3

9	1

$$\begin{array}{r} 6 \\ +3 \\ \hline \end{array} \quad \begin{array}{r} 4 \\ +2 \\ \hline \end{array}$$

$$\begin{array}{l} 5 + 1 = \\ 2 + 2 = \end{array}$$

مهارات التفكير العليا

السؤال الثالث:

يوجد مع حمد 5 دراهم ومع باسم درهمن فكم عدد الدراهم التي معهما إجمالاً؟

_____ ○ _____ ○ _____

اكتب طريقتين للحصول على العدد 8

_____ + _____ = 8

_____ + _____ = 8

اكتب الجزء الناقص في النموذج؛

7	_____
10	

3	_____
3	